

# PROVE FINALI MATEMATICA

classe **1<sup>^</sup>**

alunno/a .....











a. s. 20.../20....



# LA MATEMATTA

SCRIVI IL NUMERO PRECEDENTE E SUCCESSIVO.

METTI IL SEGNO > = < AL POSTO GIUSTO

8		5
3		7
16		16
14		11
13		18

OSSERVA IL SIMBOLO E INSERISCI TU I NUMERI

	<	
	>	
	<	
	=	
	>	



## CALCOLA ADDIZIONI:









## CALCOLA SOTTRAZIONI:





ESEGUI LE OPERAZIONI E SCRIVI SE SONO VERE (V) O FALSE (F)



## RAGGRUPPA E REGISTRA

<b>RAGGRUPPA PER 6</b> 	SESTINE	UNITA' SPARSE	<b>RAGGRUPPA PER 3</b> 	TERZINE	UNITA' SPARSE
<b>RAGGRUPPA PER 8</b> 	OTTINE	UNITA' SPARSE	<b>RAGGRUPPA PER 2</b> 	DUINE	UNITA' SPARSE
<b>RAGGRUPPA PER 7</b> 	SETTINE	UNITA' SPARSE	<b>RAGGRUPPA PER 4</b> 	QUARTINE	UNITA' SPARSE

**UNA DECINA (  ) DI PALLINE**

**DUE DECINE (  ) DI PALLINE**



**INSERISCI LE IMMAGINI AL POSTO GIUSTO IN TABELLA.**



RIGA 1, COLONNA 5



RIGA 3, COLONNA 3



RIGA 2, COLONNA 1

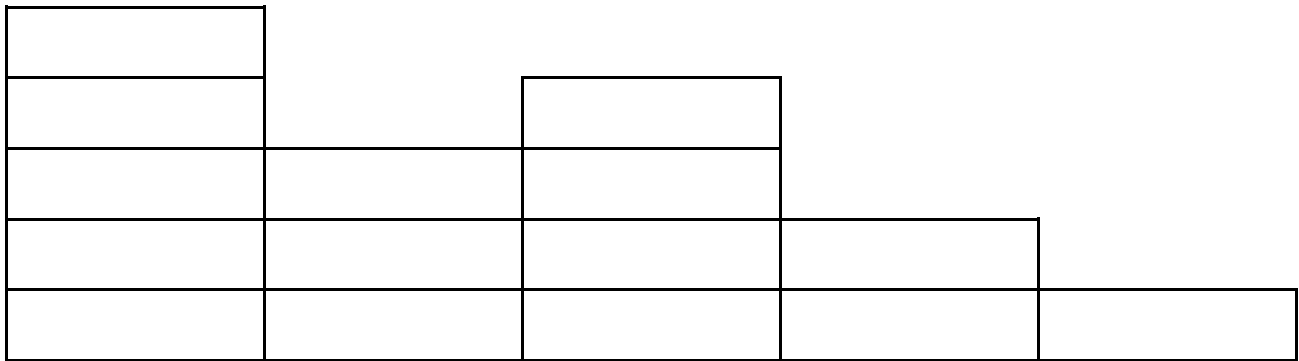


RIGA 6, COLONNA 5



RIGA 4, COLONNA 2


**BISBOCCIA, SOLITA GOLOSONA, VA AL MERCATO. OSSERVA CIO' CHE COMPRA.**



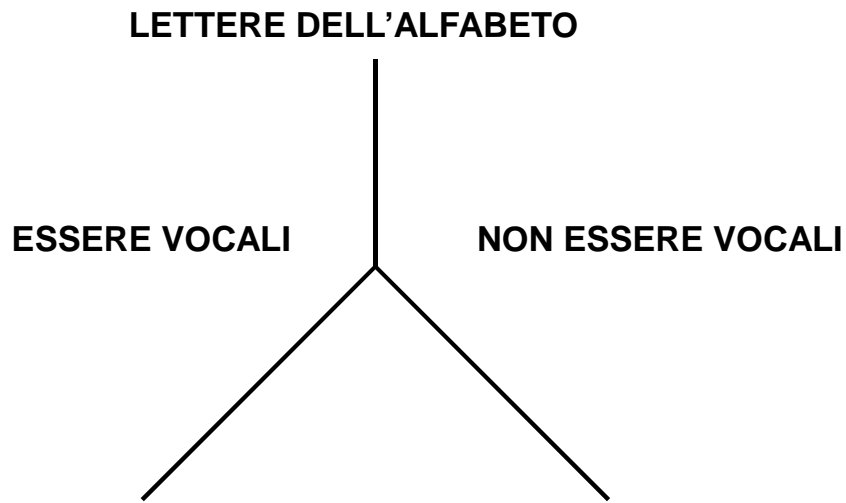
- QUAL E' ALIMENTO PREFERITO DALLA NOSTRA AMICA?.....
- QUALE QUELLO MENO GRADITO?.....
- QUANTI ANANAS HA ACQUISTATO?.....
- QUANTE PERE?.....
- HA COMPRATO PIU' MELE O PIU' TORTE?.....

QUANTI ALIMENTI HA COMPRATO IN TUTTO?.....





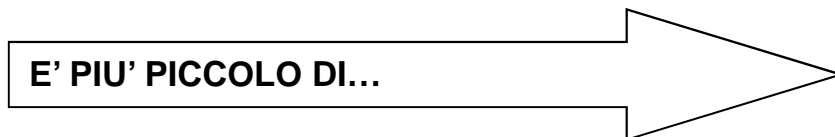
COMPLETA IL DIAGRAMMA AD ALBERO.

A, B, D, E, L, I, M, O, G, U




COMPLETA IL DIAGRAMMA SAGITTALE

LA FRECCIA DICE.....





OGGI E' IL COMPLEANNO DI CIRILLO.



QUANTE TORTE HANNO LA CANDELINA ACCESA?.....

QUANTE TORTE HANNO LA CANDELINA SPENTA?.....

QUANTI ANNI COMPIE CIRILLO?.....


QUALE OPERAZIONE HAI ESEGUITO PER SCOPRIRLO?

$6 + 3 = \dots\dots\dots$

$6 - 3 = \dots\dots\dots$



IL MAGO E BISBOCCIA GIOCANO CON I LORO 12 CAPPELLI. SALTANO DI QUA E DI LA' E LA PASTICCIONA BISBOCCIA NE CALPESTA 5.  
QUANTI CAPPELLI RIMANGONO INTATTI?



$12 + 5 = \dots\dots\dots$

$12 - 5 = \dots\dots\dots$

RISPOSTA

I CAPPELLI CHE RIMANGONO INTATTI SONO .....